

نام:

به نام خدا

تاریخ آزمون...../۰۳/۱۴۰۱

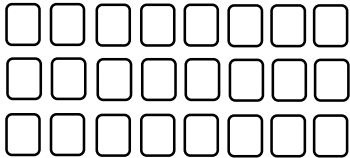
نام خانوادگی:

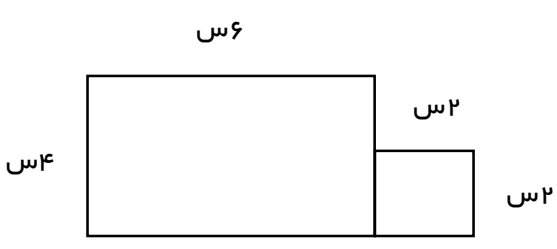

آزمون نوبت دوم ریاضی سوم

زمان پاسخگویی: ۹۰ دقیقه

نام کلاس: سوم

طراح سوال: مژگان صالحی بختیاری

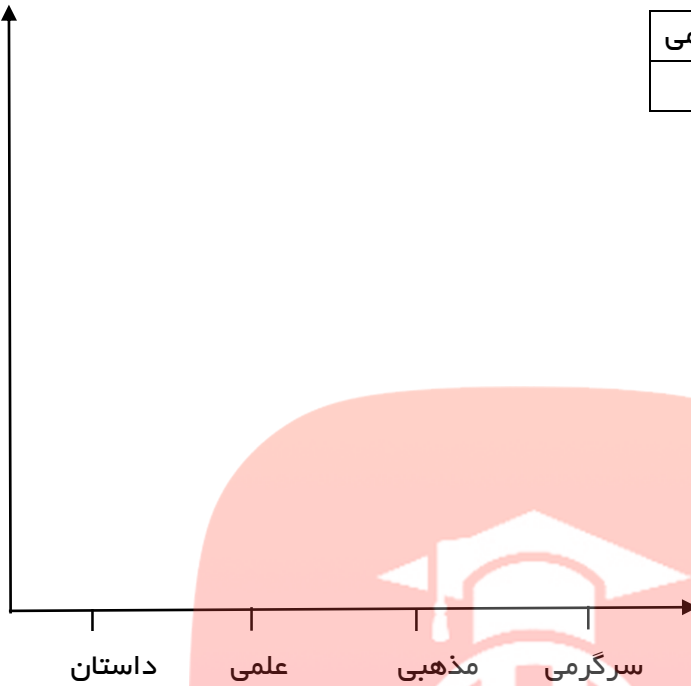
	<p>۱ جاهای خالی را با کلمات مناسب کامل کنید. الف: اندازه ی دورتادور هر شکل را آن شکل می نامند. ب: مثلثی که همه ی ضلع های آن، هم اندازه باشد..... نام دارد. ج: باز شده ی بدنه ی استوانه، به شکل است. د: شعاع قطر است.</p>										
<table border="1" data-bbox="194 488 443 761"> <tr> <td>درست</td> <td>نادرست</td> </tr> <tr> <td></td> <td></td> </tr> <tr> <td></td> <td></td> </tr> <tr> <td></td> <td></td> </tr> <tr> <td></td> <td></td> </tr> </table>	درست	نادرست									<p>۲ درست یا نادرست بودن هر جمله را مشخص کنید. الف: حاصل ضرب هر عدد در یک برابر است با یک. ب: در الگوی شمارش ۸ تا ۸ تا عدد ۵۶، هفتمین عدد است. ج: یک سکه ۲۵ ریالی، ۴ برابر یک سکه ی ۵ ریالی ارزش دارد. د: ربع عدد ۲۴ می شود ۶.</p>
درست	نادرست										
<p>۵۴۳۷ =</p>	<p>۳ گسترده یا باز شده هر عدد را بنویسید. ۸۲۰۵ =</p>										
<p>ساعت پخش یک سریال تلویزیونی ۲۱:۱۵ می باشد. این سریال در چه ساعتی از بعد از ظهر پخش می شود؟</p>	<p>۴</p>										
 <p>.....</p>	<p>۵ کسر مربوط به هر شکل را بنویسید.</p>  <p>.....</p>  <p>.....</p>										
<p>۵×۳=۳×۵</p>	<p>۶ تساوی زیر را روی محور، نشان دهید.</p> 										
	<p>۷ برای شکل زیر، دو تساوی ضرب و دوتساوی تقسیم بنویسید.</p> <p>.....×.....=..... ÷.....=.....</p> <p>.....×.....=..... ÷.....=.....</p>										
	<p>۸ باغبانی ۱۸ ردیف ۳۳ تایی درخت هلو دارد، او به طور تقریبی چند درخت هلو دارد؟</p>										

	<p>با رسم شکل نشان دهید که $\frac{3}{6} = \frac{6}{12}$ است.</p>	۹
<p>۱۰</p>	<p>مساحت شکل مقابل را به دست آورید.</p> 	
<p>۱۱</p>	<p>در جاهای خالی علامت $< = >$ بگذارید.</p> <p>16×10 <input type="checkbox"/> 16×1</p> <p>$\frac{1}{4}$ <input type="checkbox"/> $\frac{1}{2}$</p> <p>70 میلی متر <input type="checkbox"/> 7 سانتی متر</p> <p>2 واحد و $\frac{2}{8}$ واحد <input type="checkbox"/> 2 واحد و $\frac{7}{8}$ واحد</p> <p>9×3 <input type="checkbox"/> 3×9</p> <p>200 <input type="checkbox"/> $4 \times 5 \times 100$</p>	
<p>۱۲</p>	<p>حاصل جمع و تفریق زیر را به صورت فرآیندی (روش طولانی) به دست آورید.</p> $\begin{array}{r} 3254 \\ + 4235 \\ \hline \end{array}$ $\begin{array}{r} 7438 \\ - 3562 \\ \hline \end{array}$	
<p>۱۳</p>	<p>تقسیم های زیر را انجام دهید.</p> <p>$36 \div \square = 6$</p> <p>$63 \div 7 = \square$</p> 	
	<p>اگر قیمت ۵ سنجاق سر ۴۵ تومان باشد قیمت ۸ سنجاق سر چند تومان می شود؟</p> <p>www.my-dars.ir</p>	۱۴
<p>۱۵</p>	<p>حاصل ضرب زیر را به روش فرآیندی به دست آورید. (با رسم شکل)</p> $\begin{array}{r} 435 \\ \times 3 \\ \hline \end{array}$	

تعداد کتاب های سارا در جدول زیر آمده است، با توجه به داده های جدول، نمودار ستونی مربوطه را تکمیل کنید.

تعداد
کتاب

سرگرمی	مذهبی	علمی	داستان	نوع
۱۰	۳۰	۳۰	۲۰	تعداد



راهنمای توصیف عملکرد

ردیف	معیارها	خیلی خوب	خوب	قابل قبول	نیازمند تلاش
۱	جاهای خالی را با کلمات مناسب کامل کرده و درست و نادرست بودن هر جمله را مشخص می کند.				
۲	گسترده ی هر عدد را به درستی می نویسد و کسر مربوط به هر شکل را می نویسد.				
۳	تساوی ضرب روی محور و تساوی کسر را به خوبی نشان می دهد.				
۴	مقایسه ها را به درستی انجام داده است.				
۵	راه به دست آوردن مساحت مربع و مستطیل را می داند.				
۶	حاصل جمع و تفریق داده شده را به روش فرآیندی به دست آورده است.				
۷	تقسیم های داده شده را به درستی پاسخ داده است.				
۸	حاصل ضرب را به روش فرآیندی و با رسم شکل به درستی انجام داده است.				
۹	راهبردهای حل مسئله را به درستی می داند.				
۱۰	نمودار را به خوبی می شناسد و نمودار ستونی را به درستی نشان می دهد.				

بازخورد توصیفی: